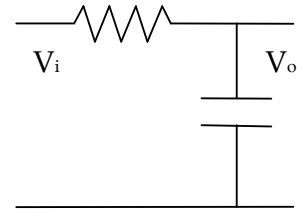


Calcolo dell'uscita del circuito di figura:

$$\bar{V}_o = \frac{\bar{X}_c}{R + \bar{X}_c} \bar{V}_i = \frac{\frac{1}{j\omega C}}{R + \frac{1}{j\omega C}} \bar{V}_i = \frac{\frac{1}{j\omega C}}{\frac{j\omega RC + 1}{j\omega C}} \bar{V}_i = \frac{1}{1 + j\omega RC} \bar{V}_i$$



Si definisce **Funzione di Trasferimento** il rapporto tra Uscita ed Ingresso:

$$[1] \quad FdT = G(j\omega) = \frac{\bar{V}_o}{\bar{V}_i} = \frac{1}{1 + j\omega RC} \Rightarrow \begin{cases} |G| = \frac{|V_o|}{|V_i|} \\ \angle G = \angle V_o - \angle V_i \end{cases}$$

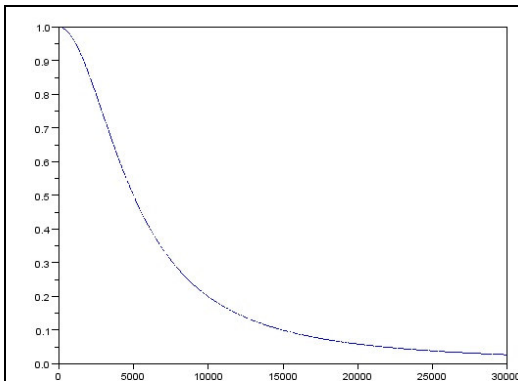
$$\Rightarrow \begin{cases} |V_o| = |G| \cdot |V_i| \\ \angle V_o = \angle V_i + \angle G \end{cases}$$

MODULO della F. di T.:

$$[2] \quad |G(j\omega)| = \frac{|1|}{|1 + j\omega RC|} = \frac{1}{\sqrt{1 + \omega^2 R^2 C^2}}$$

$$\text{Se } \omega = 0 \Rightarrow (1 + \omega^2 R^2 C^2) = 1 \quad |G(j\omega)| = \frac{1}{\sqrt{1}} = 1$$

$$\text{Se } \omega \rightarrow \infty \Rightarrow (1 + \omega^2 R^2 C^2) \rightarrow \infty \quad |G(j\omega)| = \frac{1}{\sqrt{\infty}} = 0$$



*Alla **frequenza = 0** il modulo di $|G|$ vale 1 dunque $|V_o| = |V_i|$ cioè il segnale in uscita non viene **attenuato** dal filtro.*

*Ad **alta frequenza** il modulo di $|G|$ vale 0 Dunque $|V_o| = 0$ cioè **non c'è segnale in uscita**.*

*Per **valori di frequenza intermedi** $|G|$ è compreso tra 0 ed 1*

*Dunque l'uscita $|V_o| = |G| |v_i|$ è minore dell'ingresso; **in uscita si ha un segnale attenuato***

***Il circuito è dunque un PASSA BASSO:** "passano" i segnali in bassa freq. vengono attenuati quelli in alta freq.*

FASE della F. di T.:

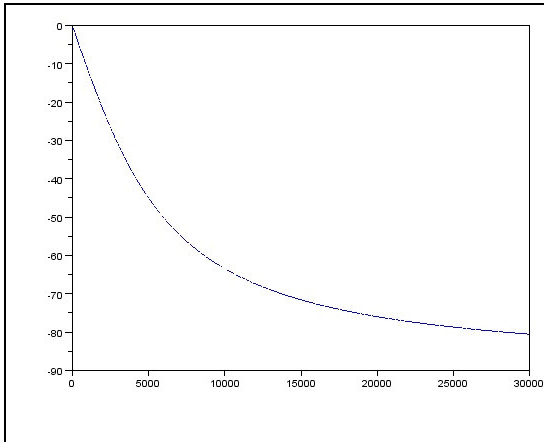
$$[3] \quad \angle G(j\omega) = \angle 1 - \angle(1 + j\omega RC) = 0^\circ - \arctg(\omega RC) = -\arctg(\omega RC)$$

$$\text{Se } \omega = 0 \Rightarrow -\arctg(0) = 0^\circ$$

$$\angle(G(j\omega)) = 0^\circ$$

$$\text{Se } \omega \rightarrow \infty \Rightarrow -\arctg(\infty) = -90^\circ$$

$$\angle(G(j\omega)) = -90^\circ$$



Alla frequenza = 0 la fase di G vale 0° dunque fase di V_o = fase di V_i cioè il segnale in uscita non viene sfasato dal filtro.

Ad alta frequenza la fase di G vale -90° Dunque la fase di V_o = fase di $V_i - 90^\circ$ cioè l'uscita è sfasata di 90° in ritardo.

Per valori di frequenza intermedi la fase di G è compresa tra 0 ed -90°

Dunque in uscita si ha un segnale ritardato di un angolo compreso tra 0° e 90° .

DECIBEL ED ASSI LOGARITMICI

$$|V_o| = |G| \cdot |V_i| \text{ esempio: } |V_o| = \frac{1}{100} \cdot |V_i|$$

L' amplificazione e l'attenuazione (in generale: Guadagno) possono essere espresse:

- come numero puro:

$$[4] \quad |G| = \frac{|V_o|}{|V_i|} \quad \text{esempio: } |G| = \frac{1}{100} = 0.01$$

- in decibel:

$$[5] \quad |G|_{dB} = 20 \log |G| \quad \text{esempio: } |G|_{dB} = 20 \log 0.01 = 20 \log 10^{-2} = -40dB$$

Nota il guadagno in decibel, per calcolare il guadagno come numero puro:

$$20 \log |G| = |G|_{dB} \Rightarrow \log |G| = \frac{|G|_{dB}}{20} \Rightarrow [6] \quad |G| = 10^{\frac{|G|_{dB}}{20}}$$

Guadagno		Guadagno		Guadagno	
Numero puro	decibel	Numero puro	decibel	Numero puro	decibel
1	0dB			0.707	-3dB
10	20dB	0.1	-20dB	1.414	+3dB
100	40dB	0.01	-40dB	2	+6dB
1000	60dB	0.001	-60dB	0.5	-6dB

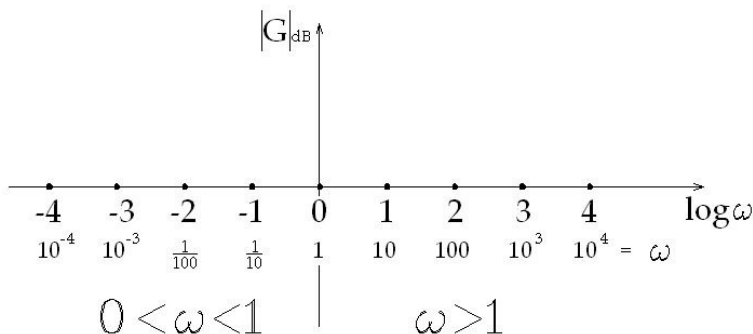
N.B.

$|G|_{dB} = 0dB$ corrisponde a $|G| = 1$
 quindi $|V_o| = |G| \cdot |V_i| = 1 \cdot |V_i| = |V_i|$ cioè **uscita = ingresso**

$|G|_{dB} = -3dB$ corrisponde a $|G| \approx 0.7$ quindi $|V_o| = 0.7 \cdot |V_i|$ cioè **uscita = 70% ingresso**

$|G|_{dB} = 20dB$ corrisponde a $|G| = 10$ quindi $|V_o| = 10 \cdot |V_i|$ cioè **uscita = 10 volte ingresso**

Assi logaritmici:



DIAGRAMMI DI BODE

sono una rappresentazione approssimata realizzata su assi logaritmici.

Diagramma di BODE del MODULO:

$$|G(j\omega)|_{dB} = 20 \log \frac{|1|}{|1 + j\omega RC|} = 20 \log \frac{1}{\sqrt{1 + \omega^2 R^2 C^2}}$$

$$\text{Se } \omega^2 R^2 C^2 \ll 1 \Leftrightarrow \omega \ll \frac{1}{RC}$$

$$\text{in } (1 + \omega^2 R^2 C^2) \text{ trascuro } \omega^2 R^2 C^2 \Rightarrow |G(j\omega)|_{dB} \cong 20 \log \frac{1}{\sqrt{1}} = 20 \log 1 = 0 \text{dB}$$

$$\text{Se } \omega^2 R^2 C^2 \gg 1 \Leftrightarrow \omega \gg \frac{1}{RC}$$

$$\text{in } (1 + \omega^2 R^2 C^2) \text{ trascuro } 1 \Rightarrow$$

$$|G(j\omega)|_{dB} \cong 20 \log \frac{1}{\sqrt{\omega^2 R^2 C^2}} = 20 \log \frac{1}{\omega RC} = -20 \log(\omega RC) \text{ dB}$$

Calcoliamo la differenza tra $|G|$ alla generica pulsazione $\omega_x \gg 1$ e $|G|$ 1 decade dopo cioè in $10 \cdot \omega_x$:

$$\begin{aligned} & \left. \begin{aligned} |G(j\omega_x)|_{dB} &\cong -20 \log(\omega_x RC) \text{ dB} \\ |G(j10\omega_x)|_{dB} &\cong -20 \log(10\omega_x RC) \text{ dB} \end{aligned} \right| \Rightarrow |G(j10\omega_x)|_{dB} - |G(j\omega_x)|_{dB} = \\ & -20 \log(10\omega_x RC) + 20 \log(\omega_x RC) = 20 \log \left(\frac{\omega_x RC}{10\omega_x RC} \right) = 20 \cdot (-1) = -20 \text{dB} \end{aligned}$$

quindi $|G(j\omega)|_{dB}$ **cala di 20dB ogni decade**

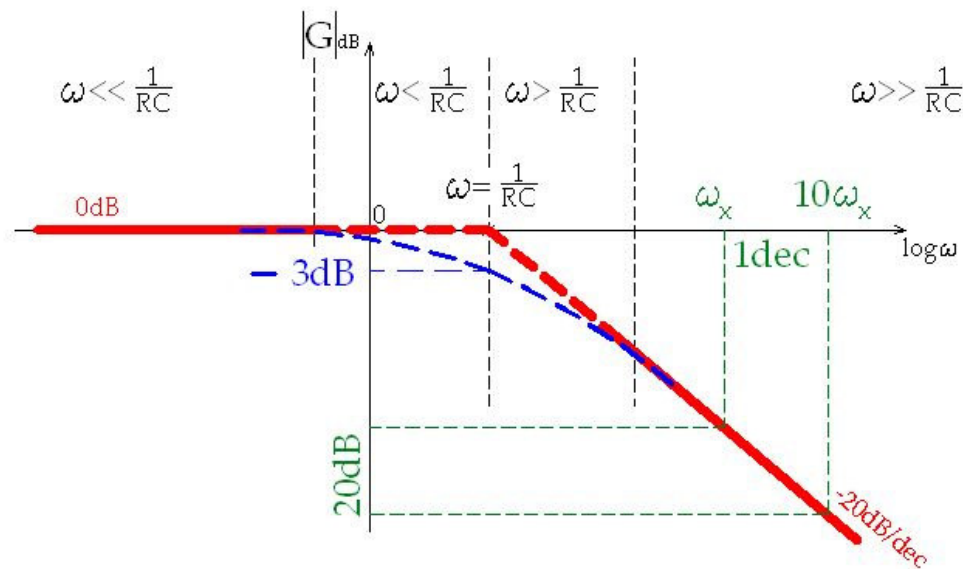
Approssimando, ritengo vere le considerazioni precedenti anche per:

$$\omega < \frac{1}{RC} \quad \text{ed} \quad \omega > \frac{1}{RC} .$$

Prolungando la retta di pendenza -20dB/dec verso sinistra, toccherà l'asse delle ascisse

in $\omega = \frac{1}{RC}$, infatti:

$$\left| G\left(j\frac{1}{RC}\right) \right|_{dB} \cong 20 \log \frac{1}{\sqrt{\left(\frac{1}{RC}\right)^2 R^2 C^2}} = 20 \log 1 = 0 \text{ dB}$$



$\omega=1/RC$ prende il nome di **PULSAZIONE di TAGLIO** (ω)

Il valore esatto di $|G|$ in $1/RC$ è:

$$\left| G\left(j\frac{1}{RC}\right) \right|_{dB} = 20 \log \frac{1}{\sqrt{1 + \frac{1}{R^2 C^2} R^2 C^2}} = 20 \log \left(\frac{1}{\sqrt{2}} \right) = -3 \text{ dB} \Leftrightarrow |G| = 10^{\frac{-3}{20}} = 0.707$$

Quindi $|V_o| \cong 0.7|V_i|$ anziché $|V_o| = |V_i|$ come indicato dal valore approssimato (0dB)

Dunque utilizzando il diagramma di Bode si compie un errore massimo pari al 30% (-3dB) del valore esatto.

DIAGRAMMA DI BODE DELLA FASE

$$\angle G(j\omega) = -\arctg(\omega RC)$$

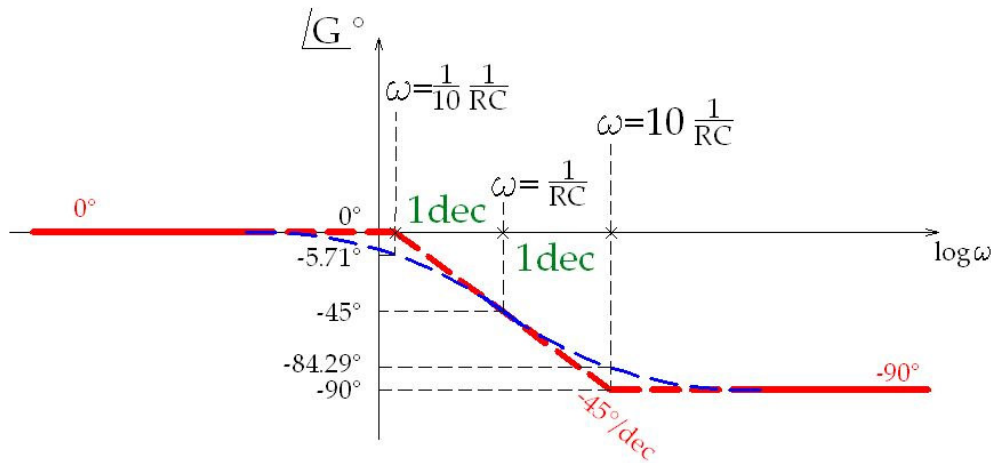
$$\angle G(j\omega) = \begin{cases} \omega = 0 \rightarrow \angle = 0^\circ \\ \omega = \frac{1}{RC} \rightarrow \angle = -\arctg\left(\frac{1}{RC} RC\right) = -45^\circ \\ \omega = \infty \rightarrow \angle = -90^\circ \end{cases}$$

1 decade prima di $1/RC$ $\omega = \frac{1}{10} \cdot \frac{1}{RC} \rightarrow \angle = -\arctg\left(\frac{1}{10 \cdot RC} RC\right) = -5,71^\circ$

1 decade dopo di $1/RC$ $\omega = 10 \cdot \frac{1}{RC} \rightarrow \angle = -\arctg\left(\frac{10}{RC} RC\right) = -84,29^\circ$

Quindi risulta accettabile approssimare l'andamento della fase a:

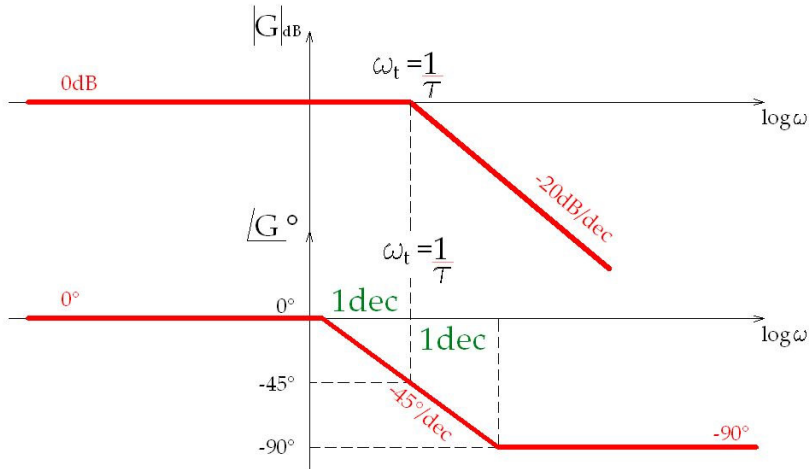
$$\angle G(j\omega) = \begin{cases} 0^\circ & \rightarrow \text{se } \omega < \frac{1}{10} \left(\frac{1}{RC}\right) \\ -45^\circ/\text{dec} & \rightarrow \text{se } \frac{1}{10} \left(\frac{1}{RC}\right) \leq \omega \leq 10 \left(\frac{1}{RC}\right) \\ -90^\circ & \rightarrow \text{se } \omega > 10 \left(\frac{1}{RC}\right) \end{cases}$$



DIAGRAMMI DI BODE DI CASI PARTICOLARI

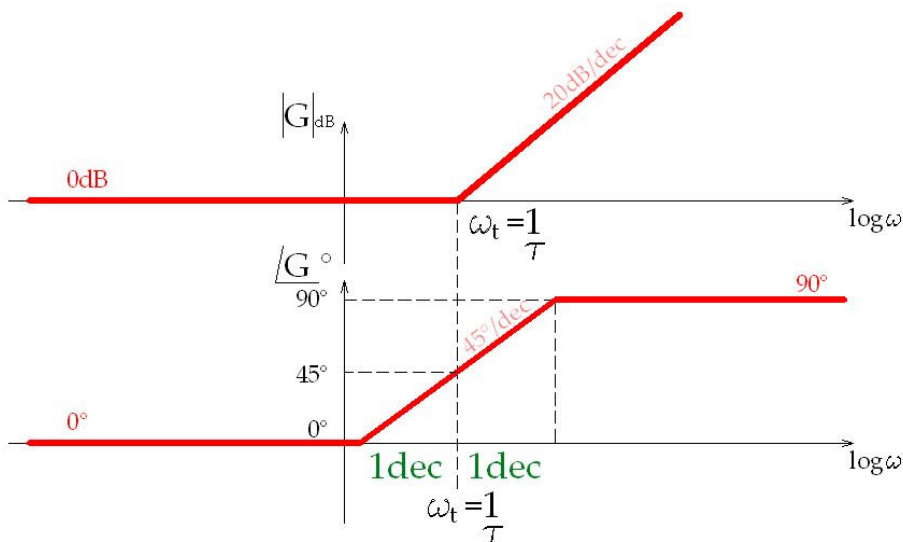
Quindi una F. di T. dalla forma: $G_1(j\omega) = \frac{1}{1 + j\frac{\omega}{\omega_t}} = \frac{1}{1 + j\omega\tau}$ dove $\tau = \frac{1}{\omega_t}$

$G_1(s) = \frac{1}{1 + \frac{s}{\omega_t}} = \frac{1}{1 + s\tau}$ dove $s = j\omega$ ha il seguente diagramma di Bode:

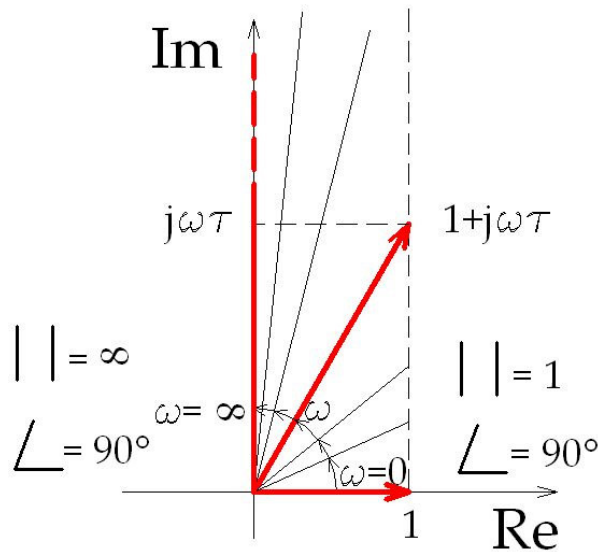


$G_2(s) = 1 + s\tau$

$$G_2(s) = \frac{1}{G_1(s)} \rightarrow \begin{cases} |G_2(s)|_{dB} = \left| \frac{1}{G_1(s)} \right|_{dB} = 20 \log \left| \frac{1}{G_1(s)} \right| = -20 \log |G_1(s)| = -|G_1(s)|_{dB} \\ \angle G_2(s) = \angle \left(\frac{1}{G_1(s)} \right) = -\angle G_1(s) \end{cases}$$



$$G_2(s) = 1 + s\tau$$



Rappresentando $G_2 = 1 + j\omega\tau$ sul piano di Gauss si vede che:

se $\omega = 0$:

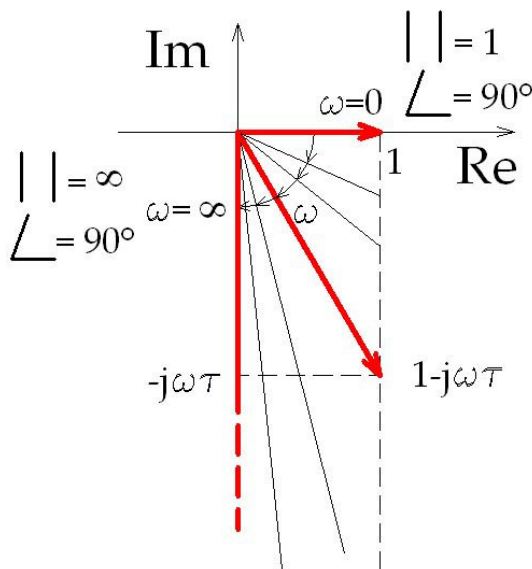
G_2 giace sull'asse dei reali ed ha modulo 1 (0 dB) e fase 0°

se $\omega \rightarrow \infty$:

G_2 si allunga e tende alla verticale quindi avrà modulo ∞ (∞ dB) e fase 90°

Queste considerazioni coincidono con quanto indicato dai diagrammi di Bode

$$G_3(s) = 1 - s\tau$$



Rappresentando $G_3 = 1 - j\omega\tau$ sul piano di Gauss si vede che:

se $\omega = 0$:

G_3 giace sull'asse dei reali ed ha modulo 1 (0 dB) e fase 0°

se $\omega \rightarrow \infty$:

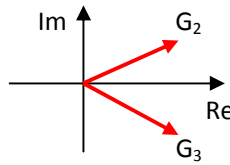
G_3 si allunga e tende alla verticale "in giù" quindi avrà modulo ∞ (∞ dB) e fase -90°

Quindi il modulo di G_3 ha lo stesso andamento del modulo di G_2 mentre la fase di G_3 è "il negativo" di quella di G_2

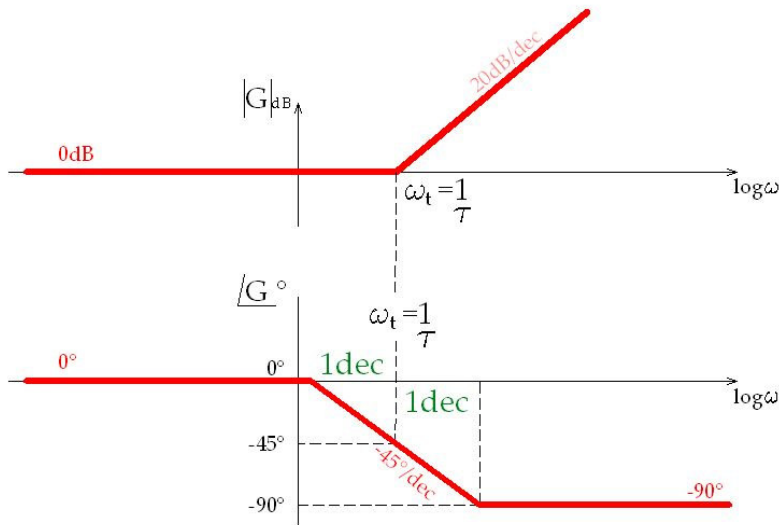
$$G_3(s) = 1 - s\tau$$

Oppure possiamo dire che G_3 essendo il complesso coniugato di G_2 :

$$G_3(s) = G_2^*(s) \rightarrow \begin{cases} |G_3|_{dB} = |G_2|_{dB} \\ \angle G_3 = -\angle G_2 \end{cases}$$

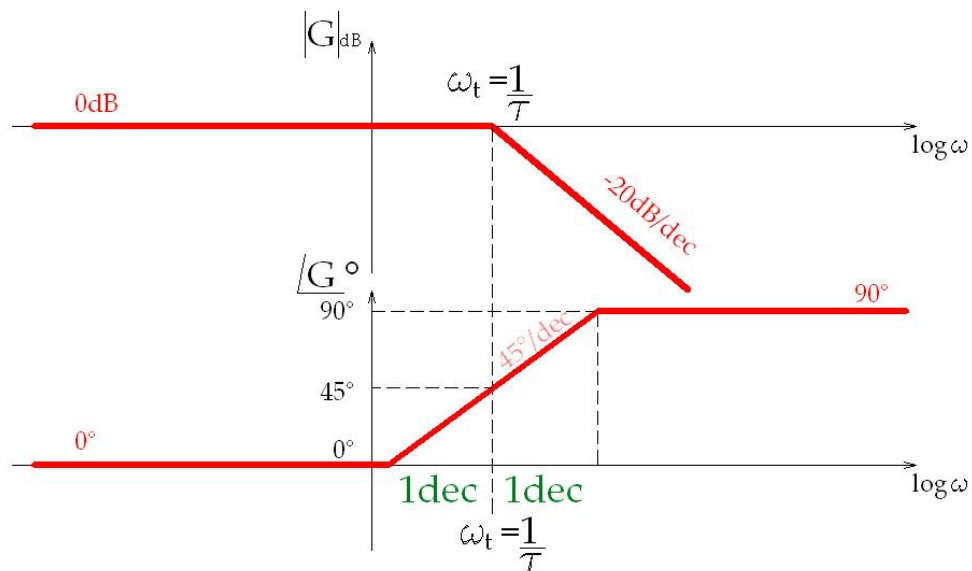


Quindi:



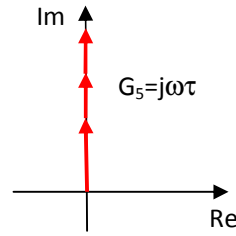
$$G_4(s) = \frac{1}{1 - s\tau}$$

$$\begin{cases} |G_4|_{dB} = -|G_3|_{dB} \\ \angle G_4 = -\angle G_3 \end{cases}$$



$$G_6(s) = s\tau = j\omega\tau \rightarrow \in \text{Im}$$

$$\begin{cases} |G_6|_{dB} = 20 \log \omega\tau = 20 \log \omega + 20 \log \tau \\ \angle G_6 = 90^\circ \end{cases}$$



Ponendo:

$$\left. \begin{array}{l} y = |G_6|_{dB} \\ x = \log \omega \\ c = 20 \log \tau \end{array} \right\} y = 20x + c$$

Sul diagramma di Bode

1. Il modulo risulta essere una retta di pendenza 20 dB/dec
2. taglia l'asse y in 20 log τ
3. taglia l'asse x in $\omega = 1/\tau$

Infatti:

1. Se calcolo $|G_6|_{dB}$ in ω_x ed ad 1 decade dopo cioè in $10\omega_x$:

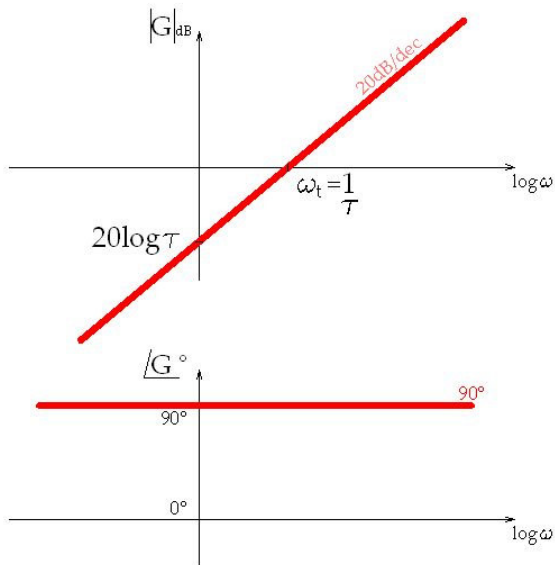
$$\begin{aligned} |G_6(10\omega_x)|_{dB} - |G_6(\omega_x)|_{dB} &= (20 \log 10\omega_x + 20 \log \tau) - (20 \log \omega_x + 20 \log \tau) = \\ &= 20 \log 10\omega_x - 20 \log \omega_x = 20 \log \frac{10\omega_x}{\omega_x} = 20 \text{ dB} \end{aligned}$$

2. Per trovare l'intersezione con l'asse delle ordinate si pone $\log \omega = 0$ in:

$$|G_6|_{dB} = 20 \log \omega + 20 \log \tau \quad \text{risulta} \quad |G_6|_{dB} = 20 \log \tau$$

3. Per trovare l'intersezione con l'asse delle ascisse si pone $|G_6|_{dB} = 0$ in:

$$\begin{aligned} |G_6|_{dB} = 20 \log \omega + 20 \log \tau \quad \text{risulta} \quad 0 &= 20 \log \omega + 20 \log \tau \Rightarrow \\ \Rightarrow \log \omega + \log \tau = 0 \Rightarrow \log \omega\tau = 0 \Rightarrow \omega\tau = 1 \Rightarrow \omega &= \frac{1}{\tau} \end{aligned}$$



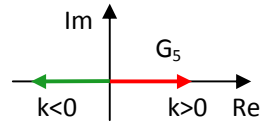
N.B.

Dal diagramma risulta che, se $\log \omega \rightarrow -\infty$ (cioè $\omega \rightarrow 0$) $\Rightarrow |G_6|_{dB} \rightarrow -\infty$ quindi $G_6 = 10^{-\infty} = 0 \Rightarrow$

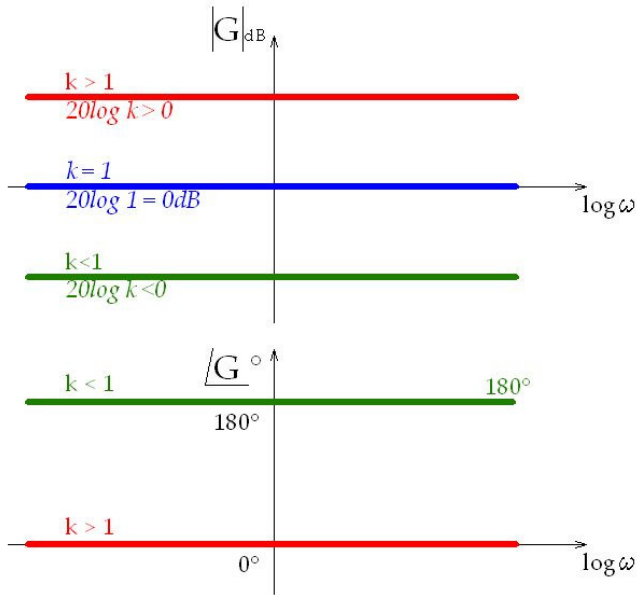
$$V_o = 0 \cdot V_i = 0$$

a frequenza 0 l'uscita è 0

$$G_7(s) = k \rightarrow \in \text{Re}$$



$$\begin{cases} |G_7|_{dB} = 20 \log k \\ \angle G_7 = \begin{cases} 0^\circ \text{ se } k > 0 \\ 180^\circ \text{ se } k < 0 \end{cases} \end{cases}$$



DIAGRAMMI DI FUNZIONI COMPOSTE

Se la F. di T. si può esprimere come prodotto o rapporto di F. di T. più semplici di cui sono noti i diagrammi di Bode,

$$G(s) = \frac{G_A(s) \cdot G_B(s)}{G_C(s) \cdot G_D(s)}$$

dato che:

$$|G(s)|_{dB} = |G_A(s)|_{dB} + |G_B(s)|_{dB} - |G_C(s)|_{dB} - |G_D(s)|_{dB}$$

$$\angle G(s) = \angle G_A(s) + \angle G_B(s) - \angle G_C(s) - \angle G_D(s)$$

i diagrammi di Bode di G si possono ottenere per via grafica sommando o sottraendo i diagrammi di Bode delle F. di T. componenti.

Risulta però più semplice eseguire le somme: quindi è preferibile fare:

$$|G(s)|_{dB} = |G_A(s)|_{dB} + |G_B(s)|_{dB} + \left| \frac{1}{G_C(s)} \right|_{dB} + \left| \frac{1}{G_D(s)} \right|_{dB}$$

$$\angle G(s) = \angle G_A(s) + \angle G_B(s) + \angle \left(\frac{1}{G_C(s)} \right) + \angle \left(\frac{1}{G_D(s)} \right)$$

Es. $G(s) = \frac{1 + s\tau_2}{1 + s\tau_1} = \left(\frac{1}{1 + s\tau_1} \right) \cdot (1 + s\tau_2) = G_1(s) \cdot G_2(s) \rightarrow$ si sommano moduli e fasi di G_1

e G_2 anziché eseguire la sottrazione grafica di 2 G del "tipo 2" con diversa pulsazione di taglio ($\tau_1 \neq \tau_2$)

